

Chapitre 2 : Distance point-droite et bissectrices

§ 2.1 L'équation normale d'une droite

Introduction : L'équation normale d'une droite nous permettra de calculer la distance d'un point à une droite ainsi que d'établir les équations cartésiennes des bissectrices d'une paire de droites données.

Définition : L'équation normale d'une droite d'équation cartésienne $ax + by + c = 0$ est définie par :

$$\frac{ax + by + c}{\sqrt{a^2 + b^2}} = 0$$

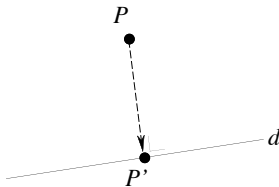
Exemple : Soit $y = \frac{2}{3}x + \frac{1}{3}$ l'équation cartésienne d'une droite. L'équation normale de cette droite est :

Exercice 2.1: Déterminer l'équation normale des droites suivantes :

- | | |
|-----------------------|---------------------------|
| a) $3x + 4y - 4 = 0$ | b) $y = 2,4x - 0,4$ |
| c) $15x + 8y - 7 = 0$ | d) $y = \frac{4}{3}x - 5$ |
| e) $y - 4 = 0$ | f) $x = 5$ |
| g) $y = x$ | h) $6x - 8y = 29$ |

§ 2.2 Projection orthogonale et distance d'un point à une droite

Définition : Soit d une droite et P un point hors de d . On appelle **projection orthogonale de P sur d** le point P' de d tel que :



$$PP' \perp d$$

- Exercice 2.2:**
- Calculer les coordonnées de la projection orthogonale du point $P(-2 ; 6)$ sur la droite AB avec $A(0 ; -3)$ et $B(5 ; 0)$.
 - Calculer les coordonnées du symétrique du point $P(12 ; 1)$ relativement à la droite $3x + 2y = 12$.

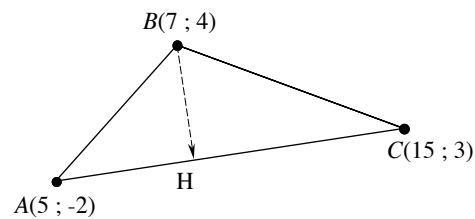
Exercice 2.3: On considère le triangle ABC donné par ses sommets :

$$A(2 ; -3), B(3 ; 2) \text{ et } C(-2 ; 5)$$

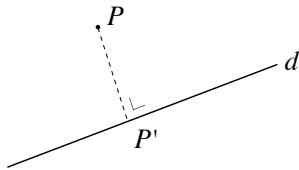
- Déterminer la mesure de la hauteur issue de A .
- En déduire l'aire du triangle ABC .

Exercice 2.4: Soit le triangle ABC , on considère le point H projection orthogonale de B sur AC .

- En déduire les coordonnées de H .
- Déterminer $\|\overline{BH}\|$.
- En déduire la distance entre le point B et la droite AC .



Définition : La **distance** du point P à la droite d est notée $\delta(P ; d)$. Elle est égale à la norme du vecteur $\overline{PP'}$, où P' est la projection de P sur d .



THÉORÈME : La distance du point $P(x_p ; y_p)$ à la droite $(d) : ax + by + c = 0$ est donnée par la formule suivante:

$$\delta(P ; d) = \frac{|ax_p + by_p + c|}{\sqrt{a^2 + b^2}}$$

Preuve: l'utilisation et la mémorisation de cette formule sont prioritaires par rapport à une preuve. Ainsi nous acceptons cette formule sans preuve.

Exemple : • Calculer $\delta(P ; d)$ où $(d) : 3x - 4y = 6$ $P(1 ; -2)$.

Une autre méthode sûre, mais longue consisterait à:

- (a) Exprimer la pente de d puis la pente d'une droite \perp à d
 - (b) Déterminer l'équation de la droite $g \perp$ à d et passant par P
 - (c) Déterminer le point $P' = d \cap g$
 - (d) Calculer la norme du vecteur $\overrightarrow{PP'}$
-
- Soit encore la droite $(h) : x + y = 1$, trouver les points de h qui sont situés à une distance égale à 3 de d .

Exercice 2.5: Reprendre l'exercice 2.3 en utilisant la formule $\delta(A, d)$ où d est l'équation de BC .

Exercice 2.6: Calculer la distance du point A à la droite d :

a) $A(2 ; -1)$, $(d) : 4x + 3y + 10 = 0$

b) $A(0 ; -3)$, $(d) : 5x = 12y + 23$

c) $A(-2 ; 3)$, $(d) : 4y = 3x - 2$

d) $A(1 ; -2)$, $(d) : x = 2y + 5$

Exercice 2.7: Calculer l'aire d'un carré dont l'un des sommets est $A(2 ; -5)$ et dont l'un des côtés a pour support la droite $(d) : x = 2y + 7$.

Exercice 2.8: Calculer l'aire d'un rectangle connaissant le sommet $A(-2 ; 1)$ ainsi que les équations de deux côtés non parallèles : $3x = 2y + 5$ et $4x + ay + 14 = 0$.

Exercice 2.9: Calculer la distance qui sépare les droites d'équation $4x - 3y = 8$ et $8x = 6y$, après avoir vérifié leur parallélisme. Déterminer l'équation de la droite g située à équidistance de ces 2 droites.

Exercice 2.10: Déterminer les équations des droites situées à distance 1 de la droite $4x - 3y = 8$.

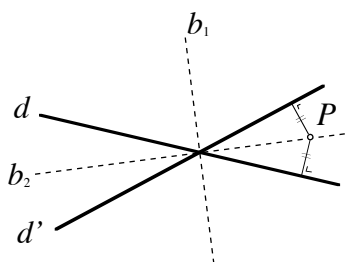
Exercice 2.11: On donne 3 droites par leurs équations:

$$(d) : x + y = 1 \quad (g) : 3x + 4y = 0 \quad (h) : x + 5 = 0$$

Calculer $P \in d$ tel que $\delta(P ; g) = 2 \cdot \delta(P ; h)$.

§ 2.3 Bissectrices de deux droites.

Remarque préliminaire : Un point P se trouve sur l'une des bissectrices des droites d et d'



\Updownarrow

$$\delta(P ; d) = \delta(P ; d').$$

On peut facilement prouver que les deux bissectrices sont perpendiculaires.

THÉORÈME: Soit d et d' deux droites sécantes :

$$(d) : ax + by + c = 0 \quad , \quad (d') : a'x + b'y + c' = 0.$$

Les équations des deux bissectrices de d et d' sont données par:

$$\frac{ax + by + c}{\sqrt{a^2 + b^2}} = \pm \frac{a'x + b'y + c'}{\sqrt{a'^2 + b'^2}}.$$

Preuve:

Exemple : Déterminer les équations des bissectrices des droites :

$$(d) : 3x + 4y + 2 = 0 \quad \text{et} \quad (g) : y = \frac{-5}{12}x + \frac{1}{12}.$$

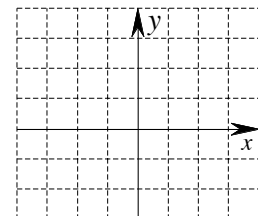
Exercice 2.12: a) Calculer les équations des bissectrices des droites d'équation

$$3x - 4y + 2 = 0 \quad \text{et} \quad 5x + 12y - 1 = 0.$$

b) Idem pour $x + 2y = 7$ et $4x - 2y - 9 = 0$.

Exemple : Déterminer les équations des bissectrices de l'axe Ox et de la droite d'équation $(d) : y = \frac{4}{3}x$.

Exemple : Quelle est, parmi les 2 solutions, la bissectrice passant dans le 1^{er} quadrant ?



Exercice 2.13: Déterminer l'équation de la bissectrice de l'angle obtus déterminé par les droites d'équation :

$$x = 3y - 5 \quad \text{et} \quad y = 3x + 15.$$

Exercice 2.14: On donne $(d) : y = x$ et $(g) : 3x + 4y - 12 = 0$. Déterminer un point de d situé à la même distance de g et de l'axe Ox .

Exercice 2.15: Déterminer l'équation de la bissectrice de l'angle déterminé par les droites d'équation $2x = 3y + 5$ et $4y = 6x + 7$ qui coupe Ox dans sa partie négative.

Exercice 2.16: Déterminer les équations des bissectrices intérieures du triangle formé par $A(-5 ; -5)$ $B(-5 ; 10)$ $C(15 ; -5)$.

Exercice 2.17: Calculer les coordonnées du centre et le rayon du cercle inscrit dans le triangle, dont les côtés ont pour équation :

$$(a) : 3y = 4x + 24, \quad (b) : 12x + 5y = 33, \quad (c) : 3x + 4y + 11 = 0.$$

Exercice 2.18: Déterminer les équations des droites passant par $P(2 ; -1)$ et qui forment avec les droites d et g d'équation :

$$y = 2x + 5 \text{ et } 3x + 6y = 1 \text{ des triangles isocèles en } A = d \cap g.$$

Exercice 2.19: On donne deux droites $(d) : x + 7y = 23$ et $(g) : x - y + 9 = 0$, ainsi que les points $P(3 ; 0)$ et $Q(-9 ; 6)$.
Calculer les points qui sont à la fois équidistants de d et de g et équidistants de P et de Q .

